

C

آزمون رانندگی کالیفرنیا

منشور است: جزوه رانندگی کالیفرنیا را قبل از شرکت در آزمون مطالعه کنید. هر سوال سه گزینه برای پاسخ دارد. یک پاسخ را انتخاب نموده و در مربعی که روی پاسخ می باشد با علامت X علامت گذاری نمایید. در هنگام آزمون صحبت نفرمایید، از کتاب یا یادداشت استفاده نفرمایید یا پیش از تصحیح آزمون محل آزمون را ترک نکنید. این کار ممکن است موجب شود که شما در آزمون رد شوید و ممکن است آزمون شما معلق یا لغو شود.

نمره ۵ قبولی — 6 اشتباه یا کمتر برای متقاضیان بار اول

3 اشتباه یا کمتر برای متقاضیان تجدیدی

1. باید در عرض 5 روز به اداره راهنمایی و رانندگی (DMV) اطلاع دهید اگر شما:
 - اتوموبیل خود را فروخته یا انتقال دهید
 - اتوموبیل خود را به رنگ متفاوتی رنگ نمائید
 - برای تخلف رانندگی جریمه شده باشید
2. برای شخصی که 21 ساله یا بزرگتر می باشد رانندگی با غلظت خون (BAC) که _____ یا بالاتر می باشد، غیر قانونی است؟
 - 0.08% — هشت صدم درصد
 - 0.10% — یک دهم درصد
 - 0.05% — پنج صدم درصد
3. شما در حال رانندگی با سرعت کم در یک آزاد راه چهار بانده می باشید. پشت سر شما در مسیر ترافیک وجود دارد. راننده پشت شما می خواهد سریعتر حرکت کند. شما باید:
 - چنانچه در محدوده سرعت تعیین شده رانندگی می کنید خط خود را تغییر ندهید
 - هنگامی که امن است به خط نست راست بروید
 - فقط خط خود را زمانی تغییر دهید که پنج یا تعداد بیشتر خودرو پشت سر شما باشند
4. کدامیک از این اظهارات در مورد سایر رانندگان صدق می کند؟
 - رانندگان همیشه علامات و چراغهای رانندگی را مراعات می کنند
 - رانندگان با استفاده از راهنما برای گردش به چپتی که مشخص می شود گردش می کنند
 - هیچوقت فرض نکنید که رانندگان دیگر حق تقدم را به شما خواهند داد
5. زمانی که پارک می کنید چرخهای جلو را بطرف جنول بچرخانید:
 - بطرف سر ازیری
 - بطرف سر بالایی
 - در یک جاده مسطح
6. هنگامی که در حال رانندگی به پیش روی اتوموبیل خود نگاه می کنید، باید:
 - در تمام مواقع به جلو نگاه کنید
 - فقط به اتوموبیلهایی که در جلوی شما هستند نگاه کنید
 - پس و پیش، دور و نزدیک
7. این علامت سفید به این معنی است:
 - خیابان یک طرفه. ترافیک بطرف راست حرکت می کند
 - جاده یکطرفه بطرف راست
 - کلیه اتوموبیلهای باید در جلو گردش به راست نمایند
8. هنگامی که در خطر راه آهن که دارای خطوط متعدد است توقف کرده اید:
 - زمانی که بتوانید هر دو جهت را واضح ببینید حرکت کنید
 - به محض اینکه قطار از جاده شما رد شد عبور کنید
 - فقط زمانی که اتوموبیلهای دیگر شروع به عبور می کنند، عبور کنید

9. از خطوط بوگانه مممت زد در وسط جاده عبور نکنید، برای:

سبقت گرفتن از سایر خودروها

گردش به چپ

وارد شدن به مدخل ساختمان نگار از

10. از چراغهای نور بالای خود در شب استفاده نمایید:

هر چه که کمتر امکان دارد

فقط در خیابانهایی که روشنایی ندارند

زمانی که قانونی و امن است

11. این علامت زرد به این معنی است:

خطها در جلو ادغام می شوند

بزرگراه تقسیم شده در پیش است

جاده با مانع در پیش است



12. شما می خواهید از یک جای پارک بصورت زاویه (کج) می بایست ندنه عقب خارج شوید. همیشه باید به آهستگی ندنه عقب آمده و نگاه کنید:

در حین ندنه عقب رفتن باید همیشه در آینه پشت نگاه کنید

در حین ندنه عقب رفتن باید همیشه در آینه های بغل نگاه کنید

در حین عقب رفتن نگاه کردن از روی شانه راست

13. زمانیکه خط عابر پیاده یا خط محدوده وجود ندارد کجا باید اتوموبیل خود را متوقف نمایید؟

درست پس از نیش (گوشه)

سر نیش

بیست پا (فیت) قبل از نیش

14. شما می توانید تا 1000 دلار جریمه و برای شش ماه زندانی شوید لگر برای مورد زیر جریمه شوید:

انداختن یا ول کردن حیوانی در شاهراه

دور زدن از خط وسطی برای پیچیدن دست چپ

پارک کردن در خط بوجرخه

15. مگر اینکه غیر از این مشخص شده باشد، حداکثر سرعت در منطقه تجاری:

25 مایل در ساعت

35 مایل در ساعت

30 مایل در ساعت

16. این علامت آبی به این معنی است که پارکینگ مجاز می باشد:

فقط برای شخصی که از صندلی چرخدار استفاده می کنند

برای افراد معلول بدون داشتن کارت یا پلاک ویژه

فقط برای افراد معلول دارای کارت یا پلاک ویژه



17. بهترین توصیه برای رانندگی هنگامیکه مه شدید یا گرد و خاک رخ می دهد چه می باشد؟

اقدام نکردن به رانندگی تا وضع بهبود پیدا کند

خیلی آهسته حرکت نکردن چون ممکن است رانندگان دیگر به شما بزنند

چراغهای نور بالا و پایین را بتناوب برای بهبود دیدتان استفاده نمایید

18. لگر اتوموبیلی که از جهت مخالف می آید و در جلوی شما شروع به گردش به چپ کرده باشد:

برای اخطار به راننده بوق بزنید و سرعت خود را حفظ کنید

سرعت خود را حفظ کنید و حق تقدم خود را بگیرید

برای جلوگیری از تصادف سرعت را کاهش داده یا توقف کنید

19. رانندگی آهسته تر از جریان ترافیک باعث می شود:

- احتمال کمتری برای تصادف وجود داشته باشد.
- احتمال بیشتری برای تصادف وجود داشته باشد.
- احتمال داشتن تصادف را تغییر نمی دهد.

20. یک عابر پیاده را با عصای سفید رنگ در سر نیش می بینید که برای عبور کردن آماده است. شخص یک قدم به عقب برداشته و عصای خود را به عقب می کشد. شما باید:

- از خیابان عبور کنید زیرا شخص برای عبور آماده نیست.
- ماشین خود را حداقل شش یا هفت فوت) نورتر از خط عابر پیاده متوقف نمایید و منتظر شوید تا شخص از خیابان عبور نماید.
- بوق بزنید تا به شخص خبر دهید که چه موقع از خیابان عبور نماید.

21. هنگامیکه در خط مخصوص گردش هستید که با یک پیکان سبز رنگ کنترل می شود، کدامیک از عبارات زیر صحیح است؟

- کلیه اتوموبیلها و عابرین باید حق تقدم را به شما بدهند.
- کلیه اتوموبیلهایی که از جهت مخالف می آیند و عابرین توسط چراغ قرمز متوقف شده اند.
- شما می توانید بدون چک کردن ترافیک در جهت علامت حرکت کنید.

22. شما باید برای اتوموبیلهای اضطراری بطریق زیر حق تقدم قائل شوید:

- رانندگی به کناره راست جاده تا حد ممکن و توقف کردن.
- وارد شدن در خط نست راست و به آهستگی رانندگی کردن تا اتوموبیل اضطراری رد شود.
- توقف بلافاصله، حتی اگر در چهار راه می باشید.

23. در یک پیچ تند باید برای آهسته کردن اتوموبیل خود از ترمزهای خود استفاده کنید:

- ترمز پس از اینکه وارد پیچ شدید.
- در طول تمام منحنی که از پیچ می گذرید.
- پیش از اینکه وارد پیچ شوید.

24. گردش به چپ یا دور زدن با فلش سبز مجاز می باشد.

- باید گردش به چپ کرده یا دور بزنید.
- گردش به چپ یا دور زدن در هر چراغ سبزی مجاز می باشد.
- گردش به چپ یا دور زدن با چراغ سبز مجاز می باشد.



25. در مسیر شما یک خط وجود دارد و خودرو جلوی شما بدون دلیل خاصی سرعت خود را اغلب کم می کند. در این حالت شما:

- سرعت خود را زیاد کنید تا هر چه زودتر از خودرو سبقت بگیرید.
- فاصله خود را با خودرو دیگر افزایش دهید.
- چراغهای جلو را به سرعت روشن و خاموش کنید تا راننده دیگر را آگاه نمایید.

26. یک خودرو سنگین در خط وسط یک جاده سه بانده در حال حرکت است. می خواهید از خودرو بزرگ سبقت بگیرید. بهترین کار این است:

- سریع از طرف چپ سبقت بگیرید و از آن جلو بزنید.
- بسیار آهسته از طرف چپ سبقت بگیرید و از آن جلو بزنید.
- بسیار سریعتر از طرف راست سبقت بگیرید و از آن جلو بزنید.

27. اگر شمار را با غلظت الکل خون (BAC) بالا یا در حد قانونی بگیرند:

- ممکن است دانگاه شما را جریمه کند.
- آزمایش استنشاق شما به تنهایی نمی تواند شما را محکوم کند.
- گواهینامه رانندگی شما بطور اتوماتیک باطل خواهد شد، بدون در نظر گرفتن وضع گواهینامه.

28. شما در یک خیابان تقسیم شده که در جهت شما چندین خط دارد در حال رانندگی هستید؟ اگر باید نور بزنی، از کجا باید شروع کنید؟
 از خط وسط خیابان
 از کنار خیابان
 از خط سمت چپ
29. اگر شما تصادف کنید، با شخص (اشخاص) دیگری که در تصادف شرکت دارند باید اطلاعات گواهینامه رانندگی خود و:
 فقط مدرک بیمه را رد و بدل کنید
 فقط مدرک بیمه و ورقه ثبت ماشین را رد و بدل کنید
 مدرک بیمه، ورقه ثبت ماشین، و آدرس کنونی
30. شما به یک تقاطع نزدیک می شوید. چراغ راهنمایی چشمک زن می باشد. چکار باید بکنید؟
 با احتیاط به رانندگی خود ادامه دهید و از چهار راه عبور کنید
 پیش از ورود توقف نمایید. سپس زمانی که امن است حرکت کنید
 پیش از ورود توقف نمایید. پیش از اینکه حرکت نمایید منتظر چراغ سبز باشید
31. یک اتوبوس مدرسه در جاده در طرف شما مقداری جلوتر متوقف شده است و چراغهای قرمز آن چشمک می زند. چکار باید بکنید؟
 اول توقف کنید، سپس زمانی که فکر می کنید امن است ادامه دهید
 تا زمانی که چراغهای قرمز چشمک می زند توقف کنید
 توقف کنید تا همه کودکان از خط شما عبور کرده باشند
32. همیشه پیش از آنکه گردش کنید، با احتیاط مراقب موتور سیکلتها باشید زیرا:
 آنها باید یک خط کامل ترافیک داشته باشند
 آنها همیشه در سر چهار راهها حق تقدم دارند
 بخاطر اندازه کوچکشان آنها را دشوارتر میتوان دید
33. گذشتن کودکی که سن او شش ساله یا کمتر است بدون سوپرست در اتوموبیل بر خلاف قانون است:
 هنگامی که کلید در استارت می باشد
 اگر کودک همراه برادر یا خواهر 12 ساله خود می باشد
 در یک روز سرد، بارانی و تمام شیشه ها بالا می باشند
34. یک علامت پیکان سبز به طرف چپ در چراغ راهنمایی بدین این معنی است که:
 یک گردش محفوظ به آن جهت انجام دهید
 گردش به چپ بکنید یا مستقیم ادامه دهید
 فقط بعد از توقف به آن جهت گردش نمایید
35. شما در حال رانندگی در یک بزرگراه پنج خطی که نزدیکترین به تقسیم کننده میانی است، در حال رانندگی هستید. برای خروج از آزاد راه از سمت چپ باید:
 با احتیاط کلیه خطها را به یکباره قطع کرده و عبور کنید
 خطها را یک به یک عوض کرده تا وارد خط مناسب شوید
 قبل از شروع به عوض کردن هر خط آهسته کنید
36. شما باید معمولا خود را با احتیاط بیشتری رانندگی کنید زمانی که:
 نزدیک مدارس، زمینهای بازی و در مناطق مسکونی هستید
 از بغل کامیونهای بزرگ در شاهراه رد می شوید
 می خواهید به یک محل تصادف که تحت کنترل می باشد نگاه کنید

من طبق مجازتهای دروغویی تحت سوگند گواهی می نمایم که خود شخصا به این سؤالات پاسخ داده ام.
 لطفا نام خود را اینجا امضاء فرمایید X



آزمون برای رانندگان کالیفرنیا

سؤالات پیش از اینکه در آزمون شرکت نمایند، حتماً باید با راهنمایان مطالعه فرمایند. هر سوال سه گزینه برای پاسخ دارد. یک پاسخ را انتخاب نموده و در مربعی که روی آن پاسخ میباید با علامت X علامت گذاری نمایند. در هنگام آزمون صحبت نفرمایند. از کتابت یا یادداشت استفاده نفرمایند یا پیش از اتمام آزمون سخن آرمون (فرگ نمائید). ممکن است موجب شود که شما بر آزمون رهنمودی مبنی است آزمون شما متوقف و با اعموعلق شود.

نمره قبولی 6 اشتباه یا کمتر برای متقاضیان بار اول
3 اشتباه یا کمتر برای متقاضیان تجدیدی

1. برای شخصی که 21 ساله یا بزرگتر میباشد رانندگی با غلظت الکل در خون (BAC) که _____ یا بیشتر میباشد غیر قانونی است.
 - 0.10% - یک نهم یک درصد
 - 0.08% - هشت صد یک درصد
 - 0.05% - پنج صد یک درصد
2. باید در عرض 30 روز به اداره راهنمایی رانندگی DMV اطلاع دهید اگر شما:
 - برای تحویل رانندگی هزینه شده باشید
 - ترمیم خود را به رنگ متفاوتی رنگ نمائید
 - ترمیم خود را فروخته یا انتقال دهید
 - هنگامیکه ترمیم را به خط سبک راست بازگردانید حرکت میکنید؛ شما باید انتظار داشته باشید که از آن ترمیمیها انقضاء شوند
 - باید اجسته تر از نوع قبلی سبک حرکت نمائید
 - باید حلقه را به ترمیمیهایی که انقضاء میشوند بدهید
3. شما نباید از ترمیمی دیگر سبک بگردانید:
 - ترحمی که احتمال دارد شخصی وارد حاده شود یا از آن عبور نماید
 - تریک خیابان بکطرفه یا خطهای متعدد
 - زمانیکه یک خط زرد رنگ شکسته در طرف چپ خط شما وجود دارد
4. رانندگی در طرف راست پشت ماشین دیگر:
 - خطرناک میباشد زیرا احتمالاً شما تریکی از نقطه های کور راننده هستید
 - یک تکنیک رانندگی دفاعی خوبی « ای احتراز از » طهء کور راننده میباشد
 - روش خوبی جهت برقراری فاصلهء حفاظتی در طرف چپتان میباشد
5. احتمال زیادی وجود دارد که کامیونهای بزرگ کنترل سرعت را از دست بدهند و خطر ایجاد کنند، در:
 - در پیچهای طولانی و تدریجی
 - هنگام بالا رفتن از تپه های طولانی و سر شیب
 - هنگام پایین رفتن از تپه های طولانی تدریجی
6. اگر در یک روز گرم باران شروع به باریدن میکند، جاده لغزنده ترین میباشد:
 - برای چند دقیقه اول
 - پس از چند ساعت باریدن باران
 - پس از اینکه باران قطع شده است
7. شما میتوانی زیر یک چراغ کامل قرمز گردش بچپ بکنید:
 - فقط پس از کم کردن سرعت و چک کردن عبور و مرور ترافیک
 - فقط پس از توقف کردن، مگر اینکه علامت غیر از این ذکر کرده باشد
 - تحت هیچ شرایطی

کد رهگیری: 9406-993-293 (949)

9. علامت های نارنجی رنگ در جاده به شما احتیاط میدهند که به مدرسه ای نزدیک میشوید.

به یک علامت راهنمایی - راهنمایی نزدیک میشوید.

به کارگران مشغول کار در جاده یا ماشین آلات در جاده نزدیک میشوید.

10. کدامیک از عبارات زیر در مورد استفاده از چراغ راهنما شما صواب است؟

شما هرگز نباید هم از علامت الکتریکی و هم از دست برای علامت دادن استفاده کنید.

اگر برای عوض کردن خطر راهنما مینویسید، راهنمائی دیگر باید به شما راه بدهند.

علامت خوبی است که همیشه برای عوض کردن خطر راهنما بزنید.

11. در کتابچه، هر کسی که توپمبیس را رنگی میکند برای دادن آزمایش شیمیایی جهت سنجش میزان الکل در خون، فتن یا ابرار رضایت داده است.

اگر به شرط سمانت انضمامی درخواست شود.

فقط اگر لکه مصرف کرده باشید.

فقط زمانی که تصدیق اتفاق افتاده باشد.

12. دیگر اگر در حال مسافرت بزرگراه هنگام ترافیک سنگین، هر یک از آنها را تا حد خود آهسته آهسته برای توپمبیهای دیگر برای اقدام شدن بهبود میبخشد.

تراکم ترافیک را کمتر میکند زیرا از سرعت توپمبیهای دیگر میکاهد.

تازه به وقت خروج از اتوبان میاید.

13. شما در جاده ای را رنگی میکنید که تنها یک مسیر خط کشی شده در جهت راهنمایی آن دارد. توپمبیل های زیادی در حال سفت گرفتن از شما هستند، شما باید:

از یک محوطه مخصوص در کنار جاده استفاده کنید تا بگذارید که سایر توپمبیل ها از شما سفت بگیرند.

به جهت راست جاده رفته اما به راهنمایی ادامه بدهند.

سرعت و موقعیت خود را در جاده حفظ کنید.

14. اگر ترافیک جدول است راست بطرف سربالا چپک کنید.

چرخهای خود را مستقیم بطرف جلو نگهدارید.

چرخهای جلویی خود را بطرف راست بچرخانید.

چرخهای جلویی خود را بطرف چپ بچرخانید.

15. اقدام (وارد شدن) به جاده امن تر است اگر شما:

به آهستگی بطرف نزدیکترین خط حرکت کنید تا راهنمائی دیگر برای شما جا باز کنند.

در کنار جاده راهنمایی کنید تا جا باز شود.

صبر کنید تا یک فاصله ای که به اندازه کافی بزرگ میباشد در ترافیک باز شود.

16. شما وارد یک بزرگراه میشوید. باید ترافیک را چک کنید، از طریق:

از روی شانهء خود نگاه کنید.

فقط از آینه های داخلی و خارجی استفاده نمائید.

کلیه آینه ها را چک کنید و سرتان را بچرخانید.

17. خطوط ممتد زرد رنگ جدا میکنند:

خطوط ترافیک را در یک خیابان یکطرفه.

خطوط دو چرخه را از ترافیک معمولی.

اتوموبیلهایی که در جهت مخالف در حال حرکت هستند.

18. کدام یک از کودکان زیر به سیستم نگهداری حفاظتی برای سر نشینان کودک لازم دارد:

شش ساله که 60 پوند وزن دارد.

پنج ساله که 55 پوند وزن دارد.

پنج ساله که 65 پوند وزن دارد.

توضیحات بیشتر (Foot Hill)

(949) 293-9406

19. اگر جاده در نتیجه باران سنگین خیس می‌باشد، شما باید از فاصله "دو ثانیه" عقب تر استفاده کنید

فاصله درازای یک ماشین پشت سر ماشین جلوی رانندگی کنید فاصله مابین تو موبیل خود و ماشین جلوی را بیشتر کنید

20. مگر اینکه توسط علامتی ممنوع شده باشد، شما می‌توانید بطور قانونی توریز کنید در سر چهارراه یا چراغ سبز در سر چهارراه در یک خیابان یکطرفه در جلوی دروازه قفس نشانی

21. رانندگی آهسته در جلوی ترافیک در خط منتهی الیه دست چپ (مرجع) تریزر گراه می‌تواند باعث آزدنگی رانندگان دیگر شود و آنها را عصبانی نماید
نمی‌تواند به جریمه رانندگی منجر شود
باعث میشود که دیگران سرعت خود را کم نمایند و زنگیها را نجات میدهد

22. شما باید با دقت مواظب دو چرخه ها باشید زیرا آنها باید از جهت مخالف ترافیکی که در حال حرکت است رانندگی نمایند
می‌توانند در نقطه کور شما پنهان شده باشند
معمولاً حق تقدم دارند

23. هنگامیکه جاده را با قطار التریکی سبک سبیم هستید، شما نمیتوانید در خط بغل تو موبیل سبک خط رانندگی کنید
باید کلیه علامات راهنمایی و رانندگی را با دقت تحت نظر داشته باشید زیرا آنها می‌توانند برای تو موبیل سبک خط تغییر کنند
می‌تواند در یک چهارراه که با علامت کنترل نمیشود جلوی یک تو موبیل سبک خط که نزدیک میشود بیچید

24. هنگامیکه تو موبیلی که دارای کیسه های هوا می‌باشد رانندگی میکند، امن تر هستید اگر حداقل 10 اینچ عقب تر از فرمان بنشینید
تا فاصله 6 1/2 اینچ از فرمان بنشینید
سر خود را مستقیم در بالای فرمان قرار داده و بنشینید

25. چه زمانی باید چراغهای جلویی خود را استفاده نمایند؟
یک ساعت قبل از غروب تا یک ساعت بعد از طلوع آفتاب
هر زمانی که نمیتوانید حداقل فاصله نو مایل رو بروی خود را ببینید
هر زمانی که برای دیدن دیگران بایسته شدن مشکل دارید

26. شما در خط منتهی الیه دست راست بزرگراه که چهار خط دارد در حال رانندگی هستید و این علامت را می‌بینید کدام یک از عبارات زیر صحیح می‌باشد؟
خط دیگری از طرف راست با خط شما تقاطع میشود
خط راست جلوتر تمام میشود، به طرف چپ بپیوندید
خط چپ جلوتر تمام میشود، به طرف راست بپیوندید



27. شما منتظر هستید که چپ بیچید و داخل ورودی گاراژ شوید. متاسفانه از جهت مخالف دارد نزدیک میشود که راهنمایان روشن است شما باید:
گرددش خود را انجام دهید، ولی فقط اگر راننده برای گردش به راست راهنما می‌زند
گرددش خود را انجام دهید، ولی فقط اگر راننده برای گردش به چپ راهنما می‌زند
پیش از اینکه گردش خود را انجام دهید منتظر شوید تا ماشین دیگر گردش خود را شروع کند

28. شما باید برای عبوری که عصبانی سفید رنگ یا سگ راهنما دارد حق تقدم قائل شوید.
فقط زمانی که سگ راهنما در حال راهنمایی شخص به آن طرف خیابان می‌باشد
فقط زمانی که عبور پدیده علامت کنترل ترافیک را مراعات میکند
در تمام مواقع

293-9406 (449)

درستی راستی رضا

(FootHill)

9406-293 (949)

29. اگر شما نمیتوانید بطور امن سر چراغ راهنمایی زرد رنگ توقف نمایید، باید بهر حال اتوموبیل خود را پیش از ورود به چهارراه متوقف سازید. با احتیاط وارد چهارراه شوید و ادامه داده عبور نمایید. اتوموبیل خود را در داخل چهارراه متوقف سازید و با احتیاط دنده عقب بروید.

30. شما در یک خیابان دوطرفه با دو خط در هر جهت هستید. برای گردش بچپ گردش خود را از: هر خطی که برای ترافیک جهت شما باز میباشد شروع نمایید. از خط دست چپ برای ترافیک جهت خود شروع نمایید. از خط دست راست برای ترافیک جهت خود شروع نمایید.

31. یک اتوموبیل پلیس در حال تعقیب شما میباشد که چراغها و ژبرهای آن روشن میباشد. شما احتیاط برای توقف را نماندیده میگیرید و سرعت خود را زیاد می نمائید. در طول تعقیب، شخصی بوضع و خیمی صدمه می بیند. محازات شما: زندانی شدن در زندان ایالتی برای پنج سال میباشد. جریمه که کمتر از \$1000 نمیشاند. شرکت در کلاس کنترل خشم و عصبانیت.

32. این علامت به معنای:

در خطهای جلوی فاصله کمتری وجود دارد. شاهراه در جلو تقسیم خواهد شد. خطر است در جلو خاتمه پیدا خواهد کرد.



33. یک سه راهی (T) در پیش است:

خدمات پزشکی در پیش است. یک سه راهی در پیش است. جاده دیگری جاده شما را در جلو قطع میکند.



34. حداکثر سرعت برای وضعیت رانندگی ایده آل:

سرعت اتوموبیلهای دیگری که در جهت شما رانندگی میکنند میباشد. سرعت ذکر شده برای جاده یا شاهراهی که شما استفاده میکنید میباشد. هر سرعتی که شما احساس میکنید برای شما و اتوموبیلتان امن میباشد.

35. تصادفات اتفاق می افتند زمانی که:

کلیده اتوموبیلها نزدیک یا با سرعت یکسان حرکت میکنند. یکی از خطوط حرکت خیلی آهسته تر از خطوط دیگر حرکت میکند. یک اتوموبیل تندتر یا آهسته تر از جریان ترافیک حرکت میکند.

36. شما در حال عبور از یک چهارراه هستید و اتوموبیل اضطراری با ژبرو چراغهای چشمک زن بزرگ میشود. بلافاصله در چهارراه توقف نمایند تا رد شود. در چهارراه به طرف راست بکشید و توقف نمایند. به عبور از چهارراه ادامه دهید، به طرف راست بکشید و توقف نمایند.

(F)

آزمون رانندگی تکثیرشما

این آزمون را در زمانی که احساس می‌کنید آمادگی دارید برای آن انجام دهید. در صورتی که در هر سوالی به گزینه‌ای شک دارید، پاسخ را انتخاب کنید. در صورتی که در هر سوالی به پاسخ دیگری شک دارید، پاسخ دیگری را انتخاب کنید. در صورتی که در هر سوالی به پاسخ دیگری شک دارید، پاسخ دیگری را انتخاب کنید.

نمره قبولی — 6 اشتباه یا کمتر برای متقاضیان بازنویس
3 اشتباه یا کمتر برای متقاضیان تجدیدی

کسوروش راستی (1384) 9406-949/293

- برای شخصی که 29 ساله یا بزرگتر می‌باشد رانندگی با طوط خون (BAC) که
 - 0.08% — هشت صدم درصد
 - 0.10% — یک دهم درصد
 - 0.05% — پنج صدم درصد
- باید در عرض 5 روز به اداره راهنمایی و رانندگی (DMV) اطلاع دهید اگر شما:
 - اتوموبیل خود را به رنگ متفاوتی رنگ نمایید.
 - برای نطف رانندگی جریمه شده باشید.
 - اتوموبیل خود را فروخته یا انتقال دهید.
- اگر شما برای رانندگی با طوط الک خون (BAC) بیش از حد مجاز محکوم شوید، ممکن است به مجازتهای زیر محکوم شوید:
 - تا شش ماه در زندان
 - تا نوزده ماه در زندان
 - تنوع زندان اما باید 300 دلار جریمه پرداخت کنید
- تور زدن در منطبق تجاری:
 - همیشه غیر قانونی است چون خطرناک است.
 - قانونی می‌باشد تا زمانی که باعث خطر برای ماشین‌هایی که از ردرو می‌آیند نشود.
 - فقط در چهار راهها قانونی می‌باشد مگر اینکه حالت تور زدن ممنوع وجود داشته باشد
- چه زمانی می‌توانید حفاظ ایمنی عبور راه آهن را تور بزنید و به آن زیر آن رد شوید؟
 - تحت هیچ شرایطی
 - زمانی که بتواند هر دو جهت را واضح ببیند
 - زمانی که چراغهای خطر چشمک نمی‌زنند
- شب است. مشابیهی که دارد بطرف شما می‌آید چراغهای نور بالای خود را روشن کرده است که تبین جدم روید و را مشکل می‌سازد شما باید:
 - به جلو بچرخد کنار چپ خط خود نگاه کنید
 - به جلو بچرخد کنار راست خط خود نگاه کنید
 - مستقیم به طرف جلو نگاه کنید
- در روزهای بارانی، برفی یا مه گرفته برف پاک کن های خود را بکار بیاورید و چراغهای جلویی خود را استفاده کنید:
 - در حالت نور بالا
 - طوری که رانندگان دیگر بتوانند شما را ببینند
 - فقط زمانی که در بزرگراه رانندگی می‌کنید
- در جهت شما دو خط تر افیک وجود دارد. شما در خط سمت چپ در حال حرکت هستید و اتوموبیلهای بسیار در خط راست از بغل شما رد می‌شوند. اگر راننده پشت سر شما ملول باشد که کندتر رانندگی کند، شما باید:
 - در خط خود بمانید تا جریان تر افیک را کند نکند
 - به کنار جاده سمت چپ بروید و بگذارید اتوموبیلهای دیگر رد شوند
 - زمانی که امن است، به خط سمت راست بروید

9. رنگ چهار راهی که با علامت رانندگی کنترل نمی شود و شما نمی توانید تا زمانی که وارد تقاطع شود ترافیک آن را ببینید، حداکثر سرعت کدام می باشد؟
 15 مایل در ساعت
 25 مایل در ساعت
 20 مایل در ساعت

10. اگر اتوموبیل شما بعثت آب در جاده شروع به از دست دادن کنش می نماید (هیدروپلین)، شما باید:
 با سرعت ثابت برای بستن آوردن کنش بهتر رانندگی نمایید
 برای جلوگیری از لغزش اتوموبیل خود، محکم ترمز کنید
 به تدریج سرعت خود را کم کرده و ترمز نمایید
 این علامت سفید به این معنی است:



می توانید فقط با داشتن علامت پیکان سبز رنگ به چپ گردش کنید
 می توانید هنگامی که امن است با داشتن چراغ سبز گردش کنید
 باید قبل از دور زدن منظر چراغ سبز بکپارچه شوید

12. برای پارک کردن در سرازیری در بغل جدول چرخهای جلویی خود را یکدام طرف می چرخانید؟
 بطرف جدول
 بنور از جدول
 موازی با جدول

13. هنگام رانندگی باید 10 تا 15 ثانیه به پیش رانندگی خود نگاه کنید:
 و متمرکز بشوید به وسط جاده
 چون اینکار قانونا باید انجام گردد
 برای دیدن به موقع خطرات احتمالی

14. علامتی نارنجی رنگ مانند این بدین معنی است:
 جاده سازی پیش رو است
 باید در جلو خط خود را عوض کنید
 تغییر مسیر در پیش است



15. وارد شدن به چهار راه بر خلاف قانون می باشد، هنگامیکه:
 نمی توانید پیش از اینکه چراغ قرمز شود کاملا عبور کرده به آن طرف برسید
 چراغ زرد چشمک زن است و شما ابتدا توقف نکرده اید
 چراغ زرد است و شما نمی توانید به صورت امن توقف کنید

16. چه زمانی می توانید فقط با استفاده از چراغهای پارکینگ خود رانندگی کنید؟
 30 دقیقه پس از غروب یا 30 دقیقه قبل از طلوع آفتاب
 تحت هیچ شرایطی
 در روزهای مه گرفته هنگامیکه دید کم می باشد

17. شما نمی توانید به هیچ صورت با یک ماشین سواری توقف نمایید:
 بغل جدول که به رنگ قرمز رنگ شده باشد
 بغل جدول که به رنگ زرد رنگ شده باشد
 در جلوی مدرسه زمانی که کودکان حضور داشته باشند

18. این علامت زرد به این معنی است:
 در سمت چپ یک پیچ تند وجود دارد
 خط فقط برای گردش به چپ می باشد
 گردش بچپ فقط با علامت پیکان سبز رنگ مجاز می باشد



رانش با شیشه (آین)

9406 - 293 - 949 (949)

19. کدامیک از این چهار آزمون صحیح تعویض خط است؟

زدن راهنما، چک کردن آینه های خود رو و سپس تعویض خط
زدن راهنما، نگاه کردن در آینه، نگاه کردن از روش شانه قبل از تعویض کردن خط
نگاه کردن در آینه، نگاه کردن از روش شانه و سپس تعویض خط دادن

20. در مورد زیر باید فاصله ماشین خود را با اتوموبیل جلوی خود افزایش دهید:
هنگامیکه پشت سر یک ماشین سواری کوچک می باشید
هنگامیکه راننده دیگری پشت سر شما خیلی نزدیک به ماشین در حرکت است
هنگامیکه هسته تر از حد مجاز رانندگی می کنید

21. شما با سرعت 55 مایل در ساعت در منتهی الیه خط چپ (خط سریع) در بزرگراه که حد سرعت آن 65 مایل در ساعت نصب شده است در حال رانندگی هستید. ممکن است برای اینکه بسیار آهسته رانندگی می کنید جریمه شوید:
اگر جریان معمولی و مقتضی ترافیک را مسدود می کنید
تحت هیچ شرایطی، زیرا همیشه آهسته تر حرکت کردن از ترافیک امن تر است

22. شما توقف کرده اید، می خواهید به سمت چپ گردش کنید، اما ماشینهایی از طرف مقابل به شما نزدیک می شوند، شما باید:
راهنما زده و بلافاصله گردش کنید
حق تقدم را به اتوموبیلهایی که نزدیک می شوند بدهید
با گردش به چپ در مقابل ترافیکی که از روبرو میاید حق تقدم را از آنها بگیرید

23. کدامیک از این اظهارات در مورد نقطه کور صدق می کند؟
برای عوض کردن خط بطرف راست یا چپ شما فقط باید برگردید و از روی شانه خود نگاه کنید
به سمت چپ یا راست بروید
برای عوض کردن خط به راست از روی شانه راست خود نگاه کنید و برای گردش به چپ از روی شانه چپ نگاه کنید
اتوموبیلهایی که دارای تو آینه بیرونی می باشند دارای نقطه کور نمی باشند

24. شما باید یک گزارش کتبی (SR 1) به اداره راهنمایی و رانندگی (DMV) ارائه دهید زمانی که:
اتوموبیل شما در آزمایش نود قبول نشده است
تصادف داشته اید و صدمات بدنی وجود داشته است
شرکت بیمه خود را تغییر می دهید

25. هنگامی که به یک خط عابر پیاده نزدیک می شوید که یک شخص نابینا منتظر است که از خیابان عبور نماید، باید به این صورت توقف کنید:
بیشتر از پنج پا (فیت) دورتر از خط عابر پیاده توقف نمایید تا صدای موتور شما باعث آشفتنگی عابر نشود
سر خط عابر توقف کنید و منتظر شوید که عابر از خیابان عبور کند
سر خط عابر توقف کنید و به عابر بگویید که چه موقع از خیابان عبور کند

26. جاده دو طرفه ای که شما در آن در حال رانندگی هستید خطی دارد که همانطور که در عکس نشان داده شده است خط کشی شده است. این خط در مورد زیر استفاده می شود:
برای شروع یا پایان گردش به چپ یا شروع دور زدن مجاز
بعنوان یک خط معمولی برای رانندگی در مواقعی که ترافیک سنگین می باشد
برای جلوگیری از اتوموبیلهای دیگری که آهسته حرکت می کنند

27. می توانید بطور قانونی ماشین خود را پارک کنید:
در محلی که عبور عابر پیاده مشخص نشده باشد
کنار خیابان و رو به جریان ترافیک
در کنار بزرگراه در موارد اضطراری

کوشش باشد (ض)

293-9406 (949)

28 مگر اینکه غیر از این مشخص شده باشد، حداکثر سرعت در منطقه مسکونی:

35 مایل در ساعت

30 مایل در ساعت

25 مایل در ساعت

29 شما باید برای اتوموبیل‌های اضطراری عبارتی زیر حق تقدم قائل شوید:

راندگی به کناره راست جاده و توقف کردن

وارد شدن در خط نست راست و به آهستگی راندگی کردن تا اتوموبیل اضطراری رد شود

توقف بلافاصله، حتی اگر در چهار راه می‌باشید

30 کدامیک از این اظهارات در مورد موتور سیکل‌ها صدق می‌کند؟

موتور سیکل‌ها کوچک می‌باشند و به آسانی می‌توانند توسط رانندگان دیده شوند

موتور سیکل‌ها ممکن است در خط‌های ترافیک حرکت نکنند

باید با فاصله بیشتری دنبال موتور سیکل‌ها حرکت کرد

31 کدامیک از این اظهارات در مورد کامیون‌های بزرگ صدق می‌کند؟

نسبت به ماشین‌های سواری برای توقف به وقت بیشتری احتیاج دارند

همه آنها ترمزهای بادی دارند که به آنها اجازه می‌دهد تا به سرعت توقف نمایند

قابلیت مانور بیشتری نسبت به اتوموبیل‌های سواری دارند

32 خط‌های محد زرد رنگ دویل که با فاصله دو یا (فیت) یا بیشتر از هم قرار دارند:

فقط می‌توان از آنها برای گردش به چپ یا تور زدن استفاده کرد

باید آنها را بعنوان دیوار تلقی کرد و نباید از آنها عبور کرد

می‌توان از آنها برای شروع یا خاتمه گردش به چپ استفاده کرد

33 در یک چهار راه با چراغ راهنمایی زرد چشمک‌زن چه باید بکنید؟

سرعت خود را حفظ کنید ولی مواظب اتوموبیل‌های دیگر باشید

پیش از اینکه از چهار راه عبور کنید توقف نمایید

سرعت خود را کم کنید و با احتیاط عبور نمایید

34 شخص می‌تواند بطور قانونی در پشت یک وانت باری سوار شود، زمانی که:

بغل‌های وانت باری حداقل 24 اینچ ارتفاع داشته باشد

پشت وانت باری با اطراف پوشانده شده باشد

در صندوق‌های امن با استفاده از کمربندهای تثبیت شده بنشیند

35 دنده عقب رفتن بطور امن شامل کلیه موارد زیر می‌باشد، بجز:

نگاه کردن به پشت از روی شانه راستان در حین عقب رفتن

چک کردن پشت ماشین‌تان پیش از اینکه رد شوید

بوق زدن قبل از اینکه دنده عقب بروید

36 شما پشت چراغ قرمز منتظر هستید تا گردش به راست کنید. یک عابر پیاده طرف راست اتوموبیل‌تان منتظر است که از خیابانی که شما می‌خواهید وارد آن شوید عبور کند. هنگامیکه چراغ شما سبز شود چه کسی حق تقدم دارد؟

عابر پیاده حق تقدم دارد

شما حق تقدم دارید فقط زمانی که خط عبور عابر پیاده مشخص نشده باشد

شما حق تقدم دارید زیرا چراغ شما سبز است

آزمون برای رانندگان کالیفرنیا

پیش از اینکه برای آزمون شرکت نمایید، خواهشمند است مدارک زیر را مطالعه فرمایید. فرمول به گریه برای پاسخ دادن، یک وسیع از کتاب خود را در دسترس خود داشته باشید. ممکن است موجب شود که شما برای آزمون رتبه بندی ممکن است آزمون شما متوقف و یا لغو شود.

نمره قبولی — 6 اشتباه یا کمتر برای مقاصد بار اول
3 اشتباه یا کمتر برای مقاصد تجدیدی

1. برای شخصی که 21 ساله یا بزرگتر میباشد رانندگی با غلظت الکل در خون (BAC) که _____ یا بیشتر میباشد عرفی است
- 0.08% — هشت صدم یک درصد
 - 0.10% — یک دهم یک درصد
 - 0.05% — پنج صدم یک درصد

2. باید در عرض 5 روز به اداره راهنمایی رانندگی DMV اطلاع دهید که شما:
- توموبیل خود را به رنگ متفاوتی رنگ نمائید
 - برای تحلف رانندگی حریجه شده باشید
 - توموبیل خود را فروخته یا انتقال دهید

3. کدامیک از این اظهارات در مورد انتهای باری بزرگ صدق نمینماید؟

- برای توقف به وقت بیشتری احتیاج دارند تا ماشینهای سواری
- همه آنها ترمزهای بادی دارند که به آنها اجازه میدهد که بتندی توقف نمایند
- قابلیت مانور کردن بیشتری دارند تا توموبیلهای سواری

4. در یک چهارراهی که با علامت راهنمایی کنترل نمیشود شما نمیتوانید ترافیک مقاطع را ببیند تا آنجا که دارید وارد چهارراه میشوید، حد سرعت کدام میباشد؟

- 15 مایل در ساعت
- 25 مایل در ساعت
- 20 مایل در ساعت

5. شما نمیتوانید یک ماشین سواری را در هیچ زمانی متوقف نمائید:

- بغل جدول که به رنگ قرمز رنگ شده باشد
- بغل جدول که به رنگ زرد رنگ شده باشد
- در جلوی مترسکه زمانی که در آن حضور داشته باشند

6. در روزهای بارانی، برفی یا مه گرفته برف پاک کن های خود را بزرگتر بیدار کنید و چراغهای جلوی خود را استفاده نمائید

- بطوری که رانندگان دیگر بتوانند شما را ببینند
- فقط زمانی که در بزرگراه رانندگی میکنید

7. اگر توموبیل شما باعث آب در حاده شروع به ارتست دادن کشش نمینماید (هیدروپلش) شما باید:

- با سرعت پیوسته برای بنست آوردن کشش بهتر رانندگی نمائید
- برای جلوگیری از لغزش توموبیل خود بطور محکم ترمز نمائید
- به تدریج سرعت خود را کم کرده و ترمز نمائید

8. زمانی که به خط عبور پیاده نزدیک میشوید که یک شخص نابینا منتظر است که از خیابان عبور نماید، شما باید:

- بیشتر از پنج پا (فیت) نور تر از خط عبور پیاده توقف نمائید تا صدای موتور شما باعث آشفتهی عابر شود
- سر خط عابر توقف نمائید و منتظر شوید تا عابر از خیابان عبور نماید
- سر خط عابر توقف نمائید و به عابر بگنید که از خیابان عبور نماید

کندش است در رما 293-9406 (949)

9. نور زدن در مناطق شهری:

همیشه غیر قانونی میباشد برای اینکه خطرناک است

قانونی میباشد هنگامیکه ماشینهایی که از روبروی ایند باعث خطر نشوند فقط در چهار راهها قانونی میباشد، مگر اینکه علامتی آنها را ممنوع نماید

10. برای پارک کردن در سر از برای در بغل جدول چرخهای جلویی خود را یکدام طرف می چرخانید؟ بطرف جدول
بدور از جدول
موازی با جدول

11. در مورد زیربند فاصله ماشین خود را با اتوموبیل جلویی خود زیاد نمائید:
هنگامیکه پشت سربک ماشین کوچک سوار می هستید
هنگامیکه راننده دیگری پشت سر شما خیلی نزدیک به ماشین شما حرکت است
هنگامیکه هسته تر از حد سرعت مجاز رانندگی می نمائید

12. شب است. ماشینیی که دارد بطرف شما می آید چراغهای نور بالای خود را روشن کرده است که نینش حاذقه روبرو را مشکل میسازد. شما باید:

به جلو بطرف کناره چپ خط خود نگاه کنید

به جلو بطرف کناره راست خط خود نگاه کنید

مستقیم در خط خود به طرف جلو نگاه کنید

13. هنگام رانندگی، شما باید 10 تا 15 ثانیه به پیش رو / جلوی خود نگاه کنید:

و متمرکز بشوید به وسط جاده

زیرا این یک امر مستلزم قانونی میباشد

برای دیدن بموقع خطرات احتمالی

14. حاذقه دو طرفه ای که شما در آن در حال رانندگی هستید خطی دارد که همانطور که در عکس نشان داده شده است خط کشی شده است. این خط در مورد زیر استفاده میشود:

برای شروع یا خاتمه گردش به چپ یا شروع نور زدن مجاز

بعنوان یک خط معمولی برای رانندگی در مواقعی که تر افیک سنگین میباشد

برای جلوگیری از اتوموبیلهای دیگری که هسته حرکت میکنند

15. کدامیک از موارد زیر طریقه صحیح برای خط عوض کردن میباشد؟

زدن راهنما، چک کردن آینه های خود، و سپس عوض کردن خط

زدن راهنما و نگاه کردن از روی شانه خود قبل از عوض کردن خط

چک کردن آینه های خود، نگاه کردن از روی شانه خود، سپس عوض کردن خط

16. شما متوقف هستید. میخواهید گردش بچپ بکنید، ولی اتوموبیلهایی هستند که دارند به شما نزدیک میشوند. شما باید:

راهنما زده و بلافاصله گردش کنید

حق تقدم را به اتوموبیلهایی که نزدیک میشوند بدهید

خود با رانندگی در جلوی تر افیکی که نزدیک میشود حق تقدم بگیری

17. چه زمانی میتوانید فقط با استفاده از چراغهای پارکینگ خود رانندگی کنید؟

30 دقیقه پس از غروب یا 30 دقیقه قبل از طلوع آفتاب

تحت هیچ شرایطی

در روزهای مه گرفته هنگامیکه دید کم میباشد

18. خطهای ممبد زرد رنگ دوتی که با فاصله دو پا (فیت) با بیشتر از هم قرار دارند:

فقط میتوان از آنها برای گردش بچپ یا نور زدن عبور کرد

باید آنها را بعنوان یک دیوار تلقی کرد و نباید از آنها عبور کرد

میتوان از آنها برای شروع یا خاتمه گردش بچپ استفاده کرد

کتابت آشنایی

293-9406

(949)

برای اتوموبیل‌های اضطراری بطریق زیر حق تقدم قائل شوید:
1. هنگامی که طرف گذارده راست حاده و توقف کردن
توقف بلافاصله، حتی اگر در داخل چهارراه هستید.

- 20. وارد شدن به داخل چهارراه برخلاف قانون میباشد زمانی که:
میتوانید پیش از اینکه چراغ قرمز شود کاملاً عبور کرده به آن طرف برسید
چراغ زرد چشمک میزند شما ابتدا توقف نکنید
چراغ زرد است و شما نمیتوانید بصورت امن توقف نمائید
- 21. مگر اینکه غیر از این مشخص شده باشد، حد سرعت در منطقه مسکونی:
35 مایل در ساعت است
30 مایل در ساعت است
25 مایل در ساعت است

22. چه زمانی بطور قانونی میتوانید دروازه عبور راه آهن را نوربز کنید یا از ریل رد شوید؟
تحت هیچ شرایطی
زمانیکه بطور واضح بتوانید هر توجیه را ببینید
زمانیکه چراغهای اخطار چشمک نمی‌زنند

23. در جهت شما دو خط ترافیک وجود دارد. شما در خط سمت چپ در حال حرکت هستید و اتوموبیل‌های بسیاری در خطر است از بزرگ شما رد میشوند. اگر راننده پشت سری شما مایل است که تندتر از شما حرکت کند، شما باید:
در خط خود بمانید تا جریان ترافیک را کند کنید
به گذارده حاده دست چپ بروید و بگذارید اتوموبیل‌های دیگر رد شوند
زمانیکه امن است به خط سمت راست بروید

24. این علامت به این معنی است که شما:

- میتوانید فقط زیر نیر (فش) سبز رنگ گردش بچپ بکنید
- میتوانید زیر چراغ سبز هنگامیکه امن میباشد گردش بچپ بکنید
- باید منتظر چراغ سبز بکوبار چه بشوید پیش از اینکه گردش بچپ بکنید



25. شما پشت چراغ قرمز منتظر هستید تا گردش بر است بکنید. یک عابر پیاده طرف راست اتوموبیل‌تان منتظر است که از خیابانی که شما میخواهید وارد آن شوید عبور کند. هنگامیکه چراغ شما سبز شود چه کسی حق تقدم دارد؟
عابر پیاده حق تقدم دارد
شما حق تقدم دارید فقط زمانی که خط عبور عابر پیاده مشخص نشده باشد
شما حق تقدم دارید زیرا چراغ شما سبز است

26. دنده عقب بردن اتوموبیل‌تان بطور امن شامل کلیه موارد زیر میباشد مگر:
نگاه کردن به پشت از روی شانه، راستان در حین آن که دنده عقب می‌روید
چک کردن پشت ماشین‌تان پیش از اینکه وارد شوید
بوق زدن قبل از اینکه دنده عقب بروید

27. کدامیک از این اظهارات در مورد موتورسیکلتها صدق میکند؟
موتورسیکلتها کوچک میباشند و به آسانی میتوانند توسط رانندگان دیده شوند
موتورسیکلتها ممکن است در خطهای ترافیک حرکت نکنند
باید با فاصله بیشتری دنبال موتورسیکلتها حرکت کرد

28. کدامیک از این اظهارات در مورد نقطه کور صدق میکند؟
برای عوض کردن خط بطرف راست با چپ شما فقط باید برگردید و از روی شانه، راست خود نگاه کنید
برای عوض کردن خط به خط سمت راست از روی شانه، راست خود نگاه کنید و برای خط سمت چپ از روی شانه، چپ خود نگاه کنید
اتوموبیل‌هایی که دارای دو آینه بیرونی میباشند دارای نقطه کور میباشند

کتابت شده است
(4419) 293-9406

شما با سرعت 55 مایل در ساعت در منتهی البیه خط چپ (خط سریع) تریزرنگراه که حد سرعت آن 65 مایل در ساعت نصب شده است در حال رانندگی هستید. ممکن است برای اینکه بسیار آهسته رانندگی میکنید جریمه شوید.
اگر شرایط حادثه با هوا رانندگی به این آهستگی را حکم میکند.
اگر جریان معمولی و مقتضی ترافیک را مسدود میکنید تحت هیچ شرایطی زیرا همیشه امن تر است که آهسته تر از ترافیک دیگر حرکت کنید.

30. اگر متهم به رانندگی با غلظت بیش از حد الکل در خون (BAC) بشوید ممکن است محکوم به زندان شوید.
تا شش ماه در زندان
تا دو ارده ماه در زندان
زندانی نداشته باشید ولی باید \$500 جریمه بپردازید.

31. شخص میتواند بطور قانونی در پشت یک وانت باری سوار شود زمانی که:
بلغهای وانت باری حداقل 24 اینچ ارتفاع داشته باشد.
پشت وانت باری با اطاقک پوشانده شده باشد.
در صندلیهای امن و با استفاده از کمربندهای ایمنی تانید شده.

32. شما باید یک گزارش کتبی (SR i) به اداره راهنمایی و رانندگی DMV ارائه دهید زمانی که:
اتوموبیل شما آزمایش دود گاز و نیل (smog) را رد نمیکند.
تصادف داشته اید و صدمات بدنی وجود داشته است.
شرکت بیمه خود را تغییر میدهند.

33. این علامت به معنی:

در طرف چپ یک پیچ تند وجود دارد
خط فقط برای گردش به چپ میباشد
گردش بچپ فقط با تیر (فلش) سبز رنگ مجاز میباشد



34. یک علامت نارنجی رنگ مانند این به معنی:

جاده سازی در پیش است
باید در جلو خط خود را عوض کنید
تغییر مسیر در پیش است



35. شما میتوانید بطور قانونی ماشین خود را پارک کنید:
در یک محل عبور عابر پیاده که مشخص نشده است.
کنار خیابان رو به جریان ترافیک که دارد می آید.
در کنار بزرگراه در موارد اضطراری.

36. در یک چهارراه با چراغ راهنمایی زرد چشمک زن چه باید بکنید؟
سرعت خود را حفظ کنید ولی مواظب اتوموبیلهای دیگر باشید.
بیش از اینکه از چهارراه عبور کنید توقف نکنید.
سرعت خود را کم کنید و با احتیاط عبور نکنید.

9406 (94) DMV 293 - (9419)

(E)

آزمون برای رانندگان کالیفرنیا

دستورات: پیش از اینکه در آزمون شرکت نمایید حتماً دانشمندان کالیفرنیا را مطالعه فرمایید. هر سوال سه گزینه برای پاسخ دارد. یک پاسخ را انتخاب کرده و در هر صحنه که روی پاسخ میبندد با علامت X علامت گذاری نمائید. در هنگام آزمون صحبت نکرمائید. از کتاب یا یادداشت استفاده نکنید. با بداندشت استفاده نکنید. ممکن است موجب شود که شما در آزمون رتبه بدتری بگیرید. ممکن است آزمون شما متوقف و یا لغو عمل شود.

نمره قبولی — 6 اشتباه یا کمتر برای متقاضیان بار اول
3 اشتباه یا کمتر برای متقاضیان تجدیدی

1. باید در عرض 5 روز به اداره راهنمایی و رانندگی DMV اطلاع دهید اگر شما:

- اتومبیل خود را فروخته یا انتقال دهید
- اتومبیل خود را به رنگ متفاوتی رنگ نمائید
- برای تخلف رانندگی جریمه شده باشید

2. برای شخصی که 21 ساله یا بزرگتر میباشد رانندگی با غلظت الکل در خون (BAC) که _____ یا بیشتر میباشد غیر قانونی است؟

- 0.08% — هشت صدم یک درصد
- 0.10% — یک دهم یک درصد
- 0.05% — پنج صدم یک درصد

3. رانندگی آهسته تر از جریان ترافیک باعث میشود:

- احتمال کمتری برای تصادف وجود داشته باشد
- احتمال بیشتری برای تصادف وجود داشته باشد
- احتمال داشتن تصادف را تغییر نمیدهد

4. این علامت به معنی:

- خیابان یکطرفه - ترافیک بطرف راست حرکت میکند
- جاده یکطرفه بطرف راست
- کلیه اتومبیلها باید در جلوگرددش بر است بنمایند
- چراغهای نور بالای خود را در شب استفاده نمائید
- هر چه کمتر که امکان دارد
- فقط در خیابانهای پهنی که روشنایی ندارند
- زمانی که قانونی و امن است

5. شما در یک خیابان تقسیم شده که در جهت شما چپین خط دارد در حال رانندگی هستید. اگر بایست دور بزنید، از کجا باید شروع کنید؟

- در خط وسط خیابان
- در کنار ده خیابان
- در خط دست چپ

6. یک اتوبوس مدرسه در جاده در طرفی که شما قرار دارید جلوتر متوقف شده است و چراغهای قرمز آن چشمک میرند. چه کاری باید بکنید؟

- اول توقف کنید، سپس زمانی که فکر میکنید امن است ادامه دهید
- زمانی که چراغهای قرمز چشمک میرند توقف کنید
- توقف کنید تا همه کودکان از خط شما عبور کرده باشند

7. در جهت شما یک خط وجود دارد و اتومبیل جلویی شما بدون هیچ دلیل واضحی، اغلب سرعت خود را کم میکند. برای این حالت شما باید:

- سرعت خود را زیاد کنید تا هر چه زودتر از اتومبیل سبقت بگیرید
- فاصله خود را با اتومبیل دیگر افزایش دهید
- چراغهای جلوی خود را بابتندی خاموش و روشن کنید تا راننده دیگر را با خبر نمائید

کوش با کوش
9406 - 9491293

9. تیر (فتش) سبز رنگ که در روی چراغ راهنمایی بطرف چپ اشاره میکند به این معنی است که شما میتوانید یک گردش محفوظ به آن جهت انجام دهید.
گردش بچپ بکنید یا مستقیم ادامه دهید.
فقط پس از توقف به آن جهت گردش نمانید.

10. بهترین توصیه برای رانندگی هنگامیکه مه شدید یا گرد و خاک رخ میدهد چه میباشد؟
سعی کنید رانندگی نکنید تا وضع بهبود پیدا کند.
خیلی آهسته رانندگی نکنید، زیرا ممکن است رانندگان دیگر به شما بزنند.
چراغهای نور بالا و پائین خود را بتناوب برای بهبود دیدتان استفاده نمانید.

11. گذاشتن کودکی که سن او شش ساله یا کمتر است بدون سرپرست در اتوموبیل برخلاف قانون میباشد.
هنگامیکه کلید در استارت میباشد.
اگر کودک همراه برادر یا خواهر 12 ساله خود میباشد.
در یک روز سرد، بارانی و شام شیشه ها بالا میباشند.

12. از خطهای دوگانه مستد زرد رنگ در وسط جاده عبور نکنید برای:
سبقت گرفتن از اتوموبیلهای دیگر.
برای گردش بچپ.
وارد شدن به مداخل ساختمان/گاراژ.

13. شما در یک بزرگراه پنج خطی در خطی که نزدیکترین به تقسیم میانی میباشد در حال رانندگی هستید. برای خروج از شاهراه از طرف راست شما باید:
با احتیاط کلیه خطها را به یکباره قطع کرده عبور کنید.
خطها را یکی یکی عوض کرده تا وارد خط مناسب شوید.
قبل از شروع به عوض کردن هر خط آهسته کنید.

14. اگر شما را بگیرند و درجه غلظت الکل خونتان (BAC) به حد قانونی یا بالاتر از حد قانونی باشد:
ممکن است توسط دادگاه جریمه شوید.
ازمایش استنشاق شما را به خودی خود نمیتوان برای محکومیت شما استفاده کرد.
گر اهینامه، رانندگی شما بطور اتوماتیک باطل خواهد شد، بدون در نظر گرفتن وضع گواهینامه.

15. هنگامیکه در حال رانندگی به پیش روی اتوموبیل خود نگاه میکنید، شما باید:
در تمام مواقع مستقیم به جلو نگاه کنید.
فقط به اتوموبیلهایی که در جلوی شما هستند نگاه کنید.
پس و پیش، دور و نزدیک.

16. شما در یک بزرگراه چهار خطه در خط سریع به آهستگی در حال رانندگی هستید. در خط شما پشت سرتان ترافیک وجود دارد. راننده،
پشت سری شما مایل است که سریعتر رانندگی کند. شما باید:
اگر در حد سرعت رانندگی میکنید خط خود را عوض نکنید.
هنگامیکه امن است به خط دست راست بروید.
فقط زمانی خط عوض کنید که پشت سرتان پنج اتوموبیل یا بیشتر وجود داشته باشد.

17. یک وانت باری بزرگ در خط وسطی از سه خط در حال حرکت است. شما میخواهید از وانت باری بزرگ سبقت بگیرید. بهترین است:
سریع از طرف چپ سبقت بگیرید و از آن جلو بزنید.
بسیار به آهستگی از طرف چپ از آن سبقت بگیرید و از آن جلو بزنید.
بسیار سریع از طرف راست از آن سبقت بگیرید و از آن جلو بزنید.

18. زمانی که پارک میکنید چرخهای جلوی خود را بطرف جدول بچرخانید:
بطرف سرازیری.
بطرف سربالایی.
در یک جاده مسطح.

آموزش رانندگی (Foot Hill)

293 - 9406 (049)

19. شما میتوانید تا 1000\$ جریمه و برای شش ماه زندانی شوید اگر برای مورد زیر جریمه شوید:
انداختن یا اول کردن حیوانی در شاهراه.
دور زدن از خط وسطی برای بچپیدن دست چپ
پارک کردن در خط دو چرخه

20. این علامت به معنی:

خطها در جلو انقاص میشوند

بزرگراه تقسیم شده در پیش است

جاده بامانع در پیش است

21. هنگامیکه در خط راه آهن که دارای خطهای متعدد است متوقف هستید:
فقط زمانیکه میتوانید بوضوح هر دو جهت را ببینید عبور کنید

بمحض اینکه قطار از جاده شما رنشد عبور کنید

فقط زمانیکه اتوموبیلهای دیگر شروع به عبور میکنند، عبور کنید

22. زمانیکه در خط مخصوص گردش هستید که با تیر (فلش) سبز رنگ کنترل میشود، کدام یک از عبارات زیر صحیح میباشد؟
کلیه اتوموبیلهای و عابرین باید حق تقدم را به شما بدهند

کلیه اتوموبیلهایی که از جهت مخالف می آیند و عابرین توسط چراغهای قرمز متوقف هستند

شما میتوانید بدون چک کردن ترافیک به جهت تیر گردش کنید

23. اگر اتوموبیلی که از جهت مخالف می آید و در جلوی شما شروع به گردش به چپ کرده است:

برای اخطار به راننده بوق بزنید و سرعت خود را حفظ کنید

سرعت خود را حفظ کنید و حق تقدم خود را بگیرید

برای جلوگیری از تصادف ماشین خود را آهسته یا متوقف کنید

24. اگر شما تصادف کنید، با شخص (اشخاص) دیگری که در تصادف شرکت دارند باید اطلاعات گواهینامه رانندگی خود را و:

فقط مدرک بیمه را ردوبدل کنید

فقط مدرک بیمه و ورقه ثبت ماشین را ردوبدل کنید

مدرک بیمه، ورقه ثبت ماشین، و آدرس جاری

25. شما میخواهید از یک جای پارک که بصورت زاویه (کج) میباشد دنده عقب خارج شوید. همیشه باید به آهستگی دنده عقب آمده و نگاه کنید:

در حین دنده عقب رفتن باید همیشه در آینه پشت نگاه کنید

در حین دنده عقب رفتن در آینه های بغلی نگاه کنید

در حین دنده عقب رفتن از روی شانه راست خود نگاه کنید

26. زمانی که خط عابر پیاده یا خط محدوده وجود ندارد کجا باید اتوموبیل خود را متوقف نمایید؟
در سمت پس از نیش (گوشه)

در سر نیش

بیست یا (فیت) قبل از نیش

27. شما به یک چهارراه نزدیک میشوید. چراغ راهنمایی قرمز چشمک زن میباشد. چکار باید بکنید؟
با احتیاط به رانندگی خود ادامه دهید و از چهارراه عبور کنید

پیش از ورود توقف نمایید. سپس زمانی که امن است حرکت کنید

پیش از ورود توقف نمایید. پیش از اینکه حرکت نمایند منتظر چراغ سبز باشید

پیش از ورود توقف نمایید. پیش از عبور کردن آماده است. شخص یک قدم به عقب برداشته و عصای

28. یک عابر پیاده را با عصای سفید رنگ در سر نیش میبینید که برای عبور کردن آماده نیست. شما باید:

خود را به عقب میکشد. شما باید:

از خیابان عبور نمایید زیرا شخص برای عبور کردن آماده نیست

ماشین خود را حداقل شش یا (فیت) دورتر از خط عابر پیاده متوقف نمایید و منتظر شوید تا شخص از خیابان عبور نماید

بوق بزنید تا به شخص خبر دهید که چه موقع از خیابان عبور نماید

کوشش راستی رضا 9406-293-949

29. این علامت به معنی:



- شما باید گردش بچپ بکنید یا نورزینید.
- گردش به چپ یا نورزیدن زیر چراغ سبزی مجاز میباشد.
- گردش به چپ یا نورزیدن زیر چراغ سبز مجاز میباشد.

30. مگر اینکه غیر از این مشخص شده باشد، حد سرعت در منطقه تجاری:

- 25 مایل در ساعت است
- 35 مایل در ساعت است
- 30 مایل در ساعت است

31. کدامیک از عبارات زیر در مورد رانندگان دیگر صدق مینماید؟

- رانندگان همیشه علامات و چراغهای راهنمایی رانندگی را مراعات میکنند.
- رانندگان با استفاده است راهنما برای گردش به چپ که مشخص میشود گردش میکنند.
- هر وقت فرض نکنید که رانندگان دیگر حق تقدم را به شما خواهند داد.

32. این علامت به معنی این است که پارکینگ مجاز میباشد:



- فقط برای اشخاصی که در صندلی چرخدار میباشند.
- برای اشخاص معلول بدون داشتن لوحه یا پلاک ویژه.
- فقط برای اشخاص معلول یا لوحه یا پلاک ویژه.

33. شما باید برای اتوموبیلهای اضطراری بطریق زیر حق تقدم قائل شوید:

- تا جایی که امکان دارد به نزدیک کناره راست جاده رانندگی کرده و متوقف شوید.
- وارد خط دست راست شده و به آهستگی رانندگی کنید تا رد شود.
- بلافاصله توقف کرده، حتی اگر در داخل چهارراه هستید.

34. در یک پیچ تند، باید برای آهسته کردن اتوموبیل خود از ترمزهای خود استفاده نمائید:

- درست پس از اینکه وارد پیچ شدید.
- در طول تمام مدتی که از پیچ میگذرید.
- پیش از اینکه وارد پیچ شوید.

35. شما باید بطور معمول اتوموبیل خود را با احتیاط بیشتری رانندگی کنید زمانی که:

- نزدیکی مدارس، زمینهای بازی، و در مناطق مسکونی هستید.
- از یغل کامیونهای بزرگ در شاهراه رد میشوید.
- میخواهید به یک محل تصادف که تحت کنترل میباشد نگاه کنید.

36. همیشه پیش از اینکه گردش کنید با احتیاط دنبال موتورسیکلتها بگردید زیرا:

- آنها باید یک خط کامل ترافیک داشته باشند.
- آنها همیشه در سر چهارراهها حق تقدم دارند.
- اندازه کوچکشان دیدن آنها را دشوار میسازد.

293-9406 (949)

(Foot hill)

7. کدام علامت به شما می گوید که خط عبور در پیش است؟

- 1.
- 2.
- 3.



1. 2. 3.

8. کدام علامت به شما می گوید که محل عبور مدرسه در پیش است؟

- 1.
- 2.
- 3.



1. 2. 3.

9. کدام علامت به شما می گوید که اگر در خط راست هستید باید خارج شوید؟

- 1.
- 2.
- 3.



1. 2. 3.

10. کدام علامت به شما می گوید که یک تقاطع خیابان در پیش است؟

- 1.
- 2.
- 3.



1. 2. 3.

11. کدام علامت به شما می گوید که جاده سازی در پیش است؟

- 1.
- 2.
- 3.



1. 2. 3.

12. کدام علامت به شما می گوید که در هنگام فرمز بودن چراغ گردش نکند؟

- 1.
- 2.
- 3.



1. 2. 3.

کتابخانه مدرسه یابان (Foot Hill)

(949) 293-9406



09/12/01
23/23

FARSI/PERSIAN SIGN TEST

این آزمون شما برای علامت جاده می باشد. این آزمون دارای دوازده سوال است. در پایین هر سوال سه علامت و سه مربع پاسخ وجود دارد. علامتی را که فکر می کنید صحیح می باشد انتخاب کرده و در مربعی که با شماره آن هماهنگ می باشد با "X" علامت گذاری کنید. اولین خط یک مثال می باشد.

سوال نمونه: کدامیک از این علامت به شما می گوید که خطر راه آهن در پیش است؟



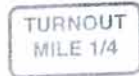
1.
 2.
 3.

1.

2.

3.

1. کدام علامت به شما می گوید که یک تابلو بار بزرگ در پیش است؟



1.
 2.
 3.

1.

2.

3.

2. کدام علامت به شما می گوید که تغییر مسیر در پیش است؟



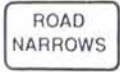
1.
 2.
 3.

1.

2.

3.

3. کدام علامت به شما می گوید جاده مستوی در پیش است؟



1.
 2.
 3.

1.

2.

3.

4. کدام علامت به شما می گوید که محدوده ایمن سازی در پیش است؟





1.
 2.
 3.

1.

2.

3.

5. کدام علامت به شما می گوید که ترافیک آهسته تر باید از کدام مسیر استفاده کند؟



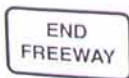
1.
 2.
 3.

1.

2.

3.

6. کدام علامت به شما می گوید که آهسته رانندگی کنید؟



1.
 2.
 3.

1.

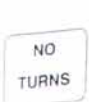
2.

3.

آموزش رانندگی (Fast Hill)

(444) 293 - 9406

7. کدام علامت به شما می‌گوید که باید مسیر خود را عوض کنید؟



1.
2.
3.

1.

2.

3.

8. کدام علامت به شما می‌گوید که در روزهایی که باران می‌بارد و سطح جاده خراب می‌شود؟



1.
2.
3.

1.

2.

3.

9. کدام علامت به شما می‌گوید که جاده دراز و صاف است؟



1.
2.
3.

1.

2.

3.

10. کدام علامت به شما می‌گوید که در آنجا باید احتیاط کنید؟



1.
2.
3.

1.

2.

3.

11. کدام علامت به شما می‌گوید که سطح جاده هنگامی که برف می‌بارد، لغزنده است؟



1.
2.
3.

1.

2.

3.

12. کدام علامت به شما می‌گوید که در آنجا کارگران مشغول کار هستند؟



1.
2.
3.

1.

2.

3.

کتابت دانش (940) 243-9406

FARSI/PERSIAN SIGN TEST

این آزمون شما برای علامت‌ها می‌باشد. این آزمون دارای دو ازده سوال است. در پایین هر سوال سه علامت و سه مربع پاسخ وجود دارد. علامت‌ها را که فکر می‌کنید صحیح می‌باشد انتخاب کرده و در مربعی که با شماره آن هماهنگ می‌باشد با "X" علامت گذاری کنید. اولین خط یک مثال می‌باشد.

سوال نمونه: کدام یک از این علامت‌ها شما می‌گوید که خط راه آهن در پیش است؟

1. 	2. 	3. 	1. <input checked="" type="checkbox"/> 2. <input type="checkbox"/> 3. <input type="checkbox"/>
--	--	--	--

1. کدام علامت به شما می‌گوید که خط راه آهن در پیش است؟

1. 	2. 	3. 	1. <input checked="" type="checkbox"/> 2. <input type="checkbox"/> 3. <input type="checkbox"/>
--	--	--	--

2. کدام علامت به شما می‌گوید که خط راه آهن در پیش است؟

1. 	2. 	3. 	1. <input type="checkbox"/> 2. <input checked="" type="checkbox"/> 3. <input type="checkbox"/>
--	--	--	--




3. کدام علامت به شما می‌گوید که خط راه آهن در پیش است؟

1. 	2. 	3. 	1. <input checked="" type="checkbox"/> 2. <input type="checkbox"/> 3. <input type="checkbox"/>
--	--	--	--

4. کدام علامت به شما می‌گوید که خط راه آهن در پیش است؟

1. 	2. 	3. 	1. <input type="checkbox"/> 2. <input checked="" type="checkbox"/> 3. <input type="checkbox"/>
---	---	---	--

5. کدام علامت به شما می‌گوید که علامت راهنمایی در پیش است؟

1. 	2. 	3. 	1. <input type="checkbox"/> 2. <input checked="" type="checkbox"/> 3. <input type="checkbox"/>
--	--	--	--

6. کدام یک از این علامت‌ها به شما می‌گوید که اجاره‌دهنده ماشین‌های که تندتر حرکت می‌کنند را به شما هشدار می‌دهد؟

1. 	2. 	3. 	1. <input checked="" type="checkbox"/> 2. <input type="checkbox"/> 3. <input type="checkbox"/>
--	--	--	--

کمیته بازرسی (ایب) (449) 293-9406

7. کدام علامت به شما می‌گوید که در خط - جاده روگن است؟

1.
 2.
 3.



8. کدام علامت به شما می‌گوید که در خط - جاده روگن است؟

1.
 2.
 3.



9. کدام علامت به شما می‌گوید که در خط - جاده روگن است؟

1.
 2.
 3.



10. کدام علامت به شما می‌گوید که جاده - جاده روگن است؟

1.
 2.
 3.



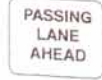
11. کدام علامت به شما می‌گوید که این جاده دارای خط وسط می‌باشد؟

1.
 2.
 3.



12. کدام علامت به شما می‌گوید که خط عبور در پیش است؟

1.
 2.
 3.



(949)293-9406 (Cp1) سبب است

FARSI/PERSIAN SIGN TEST

این آزمون شما برای علامت چاده می باشد. این آزمون دارای دوازده سوال است. در پایین هر سوال سه علامت و سه مربع پاسخ وجود دارد. علامتی را که فکر می کنید صحیح می باشد انتخاب کرده و در مربعی که با شماره آن هماهنگ می باشد با "X" علامت گذاری کنید. اولین خط یک مثال می باشد.

سوال نمونه: کدامیک از این علامت به شما می گوید که خطراه آهن در پیش است؟



- 1.
- 2.
- 3.

1.

2.

3.

کدام علامت به شما می گوید که گردش به چپ در پیش است؟



- 1.
- 2.
- 3.

1.

2.

3.

کدام علامت به شما می گوید زمانی که بیکلین می رانند باید چه می گوید بکنند؟



- 1.
- 2.
- 3.

1.

2.

3.

کدام علامت به شما می گوید که در این جاده باید احتیاط کنید؟



- 1.
- 2.
- 3.

1.

2.

3.

کدام علامت به شما می گوید که از سمت راست عبور نکنید؟



- 1.
- 2.
- 3.

1.

2.

3.

کدام علامت به شما می گوید که باید مسیر خود را عوض کنید؟




- 1.
- 2.
- 3.

1.

2.

3.

کدام علامت به شما می گوید که در جلو، کارگران مشغول کار هستند؟



- 1.
- 2.
- 3.

1.

2.

3.

کمیته سنجش (اصفهان)

(949) 293 - 9406